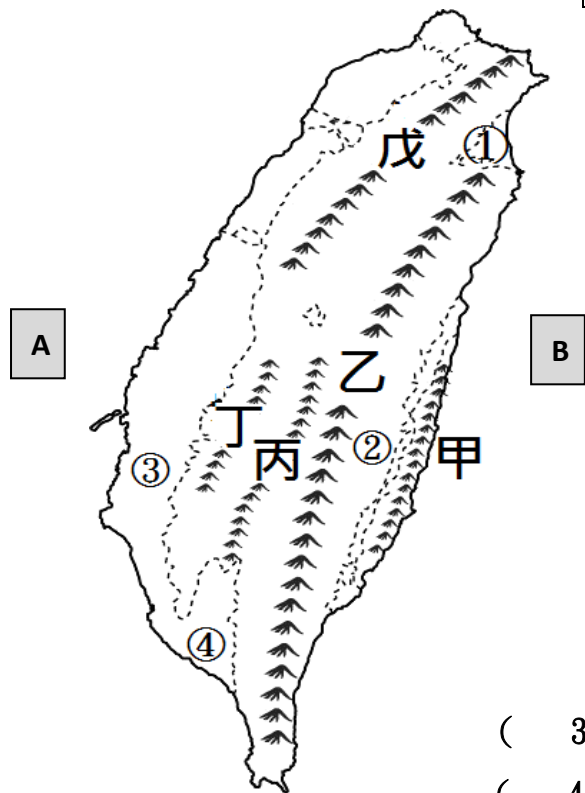


一、【好山好水好風景】：(34 分)

(一)、左圖為臺灣山脈(甲~戊)、平原(①~④)和鄰近海域(A~B)分布圖。1-4 題請以圖中代號回答。(26 分)

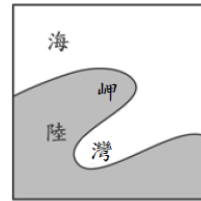
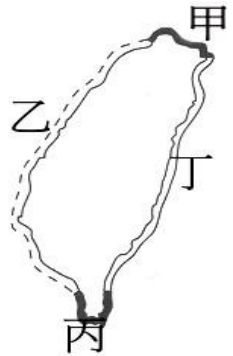


1. 在花蓮鳳林的花東飛行場，搭上專業教練駕駛的輕航機，就能夠輕鬆眺覽海岸山脈 (甲) 和花東縱谷平原 (2) 的美景。翻過綿延的山脈就能看到一望無際的湛藍太平洋 (B)，沿著海岸線前進，感受山海交織的動人美景。
2. 想要享受山上新鮮空氣兼健身，阿里山 (丁) 二延平及霞之道等步道，是全家出遊的最佳選擇。步道沿途居高臨下，可俯瞰嘉南平原 (3) 直至臺灣海峽 (A)，更可眺望玉山 (丙) 主峰；因當地無光害，夜晚還可仰望滿天星斗的夜空。
3. 五峰旗瀑布是礁溪著名的景點之一，這裡位於雪山山脈 (戊) 與宜蘭平原 (1) 交接處。沿著步道向山林深處行走，可在觀景台欣賞瀑布美景，是當地人散步踏青的熱門去處。
4. 大武山是中央山脈 (乙) 的最南端峰脈，從屏東縣的任何角落，只要不被高樓阻隔視線，大武山都毫無保留的展現百變姿態。在海上，屏東擁有一顆獨一無二的「珍珠」，是珊瑚礁島，更是綠蠵龜的新故鄉，那裏的風土人情就像屏東平原 (4) 一樣美好，吸引各方遊客造訪！

(3) 5. 題 4 中所指的「珍珠」最有可能是 (1)龜山島 (2)蘭嶼 (3)小琉球 (4)綠島。

(4) 6. 這五大山脈主要是由哪兩個板塊碰撞擠壓產生的？
 (1)歐亞板塊、非洲板塊 (2)菲律賓海板塊、印澳板塊
 (3)太平洋板塊、印澳板塊 (4)歐亞板塊、菲律賓海板塊。

(二)、臺灣四周海岸呈現不同的風情景觀，以下所描繪的景觀圖各是出現在左圖的哪一段海岸中？(8分) (請填代號)



(1) 丁 (2) 甲 (3) 乙 (4) 丙

二、【從經緯度看位置】：(16分)

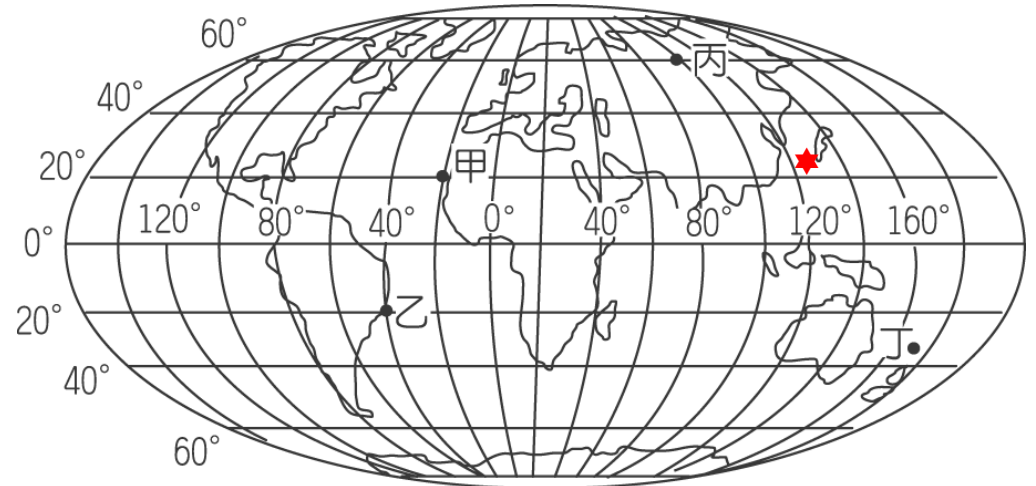
(一)、關於「經度」與「緯度」的敘述，請將正確的打✓。(4分)

- () 1. 通過美國格林威治天文臺的經線為0度經線。
- (✓) 2. 東、西半球的經度各有180度。
- (✓) 3. 每一條與赤道平行的線，稱為緯線。
- (✓) 4. 以赤道為界，可將地球平均分成南、北半球。

(二)、請判斷右圖中，甲、乙、丙、丁位置：

- 1. 哪一個點所在的緯度最高？(丙)
- 2. 哪些點位於西半球？(甲)、(乙)
- 3. 哪些點位於南半球？(乙)、(丁)

(三)、請在右圖中用星號「★」標示出臺灣的大概位置。



三、【晴時多雲偶陣雨】：關於臺灣氣候的敘述，對的打○，錯的打×（16分）

- (×) 1. 春、夏兩季常有颱風侵襲臺灣，帶來豐沛的降雨。
- (×) 2. 臺灣的氣候以北回歸線為界，以北全年四季高溫；以南夏季溫度仍高，冬季則氣溫稍低。
- (○) 3. 夏季西南季風盛行，氣候溼熱；冬季盛行東北季風，北部、東北部的天氣溼冷。
- (○) 4. 同樣位於中部地區，但合歡山上所測量的氣溫比臺中市區的氣溫還要低，是因為受到地形高度的影響。
- (×) 5. 高山的氣溫會隨著地形高度的上升而下降，平均每上升 100 公尺，氣溫約下降 6 °C。
- (○) 6. 每到冬天，就會有許多北部的棒球隊到南部移地訓練，這是因為南部冬天氣候較溫暖，較少下雨。
- (○) 7. 焚風是一種高溫乾燥的風，臺東地區的釋迦常被焚風灼傷，遭受重大損害。
- (×) 8. 10月2日氣象預報：「今年的第25號颱風康芮已經在菲律賓東方海面形成，預計在三天後會侵襲臺灣。」從內容中可以得知此颱風的行進路線是向西南方移動。





四、【愛水節水護水源】：(16分)

全球水資源匱乏的危機，已是刻不容緩的全民議題。根據聯合國 2018 年世界水資源發展報告估計，全球有近半人口住在每年會缺水一個月的地區，而台灣亦不能置身事外，雖然其年均降雨量是全球的 2 倍，卻因陡峭地型與降雨不均等因素，名列世界上第 19 名的缺水警戒國，限水新聞時有所聞。
-章節錄自 2018-8-19 工商時報-

- (2) 1. 請問臺灣的年平均降雨量大約是多少mm？ (1)250 mm (2)2500 mm (3)5200 mm (4)25000 mm。
- (4) 2. 下列何者不是造成臺灣水資源不足的因素？
(1)降水分佈不均 (2)地勢坡度大 (3)人口密度高 (4)未建有水庫蓄水
- (2) 3. 目前臺灣的用水總量以何者為最多？ (1)生活用水 (2)農業用水 (3)工業用水 (4)發電用水。
- (4) 4. 關於臺灣河川的描述，何者錯誤？
(1)河川水量的主要來源是降雨 (2)濁水溪是最長的河川 (3)大多起源於中央山脈 (4)汙染以東部河川最為嚴重。
- (3) 5. 哪一個行為不是維護河川生態的做法？
(1)積極整治受汙染的河川 (2)響應淨川的活動 (3)直接將家庭廢水排入河川 (4)規勸、檢舉傾倒垃圾的人。
6. 面對臺灣水資源拉警報，你還知道哪些省水的妙招呢？請寫出二項：(6分)
- (1). _____ (2). _____

五、【跨越時空互古今】：(18分)

里 號

	<p>(4) 1. 新北市政府於10月6日起在八里左岸展開為期60日的「神雕遐旅 伊見雙雕」沙雕展，本次沙雕以人面陶罐作為橫跨「時間之河」的象徵物(如左圖)，請問此創作品是代表哪一個文化遺址的文物特色？ (1)長濱文化 (2)圓山文化 (3)卑南文化 (4)十三行文化。</p> <p>(3) 2. 承上題，此遺址中出土的<u>中國</u>銅錢，代表何種意義？ (1)已進入青銅器時代 (2)是<u>臺北盆地</u>原住民<u>凱達格蘭族</u>的祖型文化遺留 (3)已和<u>中國</u>漢人有貿易往來 (4)說明此地早已吸收了<u>中國</u>大陸東南沿海較高明的煉銅技術。</p>
	<p>(1) 3. 根據考古學家的研究推測，<u>臺灣</u>最早的獵人是哪一個族群呢？ (1)長濱人 (2)圓山人 (3)卑南人 (4)十三行人。</p> <p>(4) 4. 承上題，下列哪一個情景可能是這族群人的生活日常？ (1)在田裡種植稻米 (2)到煉鐵坊工作 (3)和小孩一起畜養動物 (4)用火烤熟鹿肉。</p>
	<p>(2) 5. 工具的進步透露出文化生活的複雜化與效率的需求。左圖的陶器顯示下列哪一個文化人最先懂得以更聰明的方式享用美食呢？ (1)長濱人 (2)圓山人 (3)卑南人 (4)十三行人。</p> <p>(2) 6. 承上題，「貝塚」是此時期的遺址，請問是如何形成的？ (1)親人去世後，利用貝殼做成棺木下葬 (2)人們將吃剩的貝殼堆積而成的 (3)人們幫貝類於死後所蓋的墳墓 (4)人們進行貝類養殖，因逢乾旱形成的。</p>
	<p>(3) 7. 左圖「人獸形玉玦」是哪一個文化遺址所出土的器物？ (1)長濱文化 (2)圓山文化 (3)卑南文化 (4)十三行文化。</p> <p>8. 此玉玦形象屬於當時<u>臺灣</u>地區特有的設計風格，似乎富含文化意義。你認為代表什麼意思呢？(4分)</p> <hr/>

