

國立清華大學附設實驗國民小學107學年度第一學期四年級期中評量

版本：康軒 領域：社會 出題者：沈漢淇老師 _____里_____號_____

一、選擇題：(每題2分，共20分)

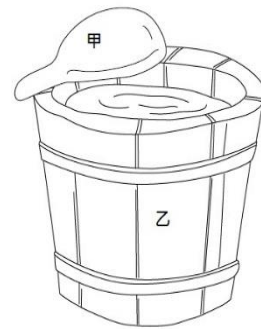
- (2) 1. 早期嘉南平原上部分田地只能從事旱作農業，後來是因為哪一項建設的完成，使得許多旱田得以轉為水稻耕作？(1)曾文水庫 (2)嘉南大圳 (3)翡翠水庫 (4)阿公店水庫。
- (2) 2. 在傳統三合院的建築中，從房間的排列位置可以看出什麼特別的意義？(1)房間大小 (2)重視倫理關係 (3)家中人數多寡 (4)哪裡涼快。
- (1) 3. 奇奇縣和妙妙市想要共同開發流經兩地的河川，建造水庫提供民生及工業用水，請問該選擇河川的哪一段來興建較適當？(1)上游. 中游 (2)上游. 下游 (3)中游. 下游 (4)上游. 中游. 下游皆可。
- (4) 4. 小涵坐車從屏東到臺北，請問她依序會跨越哪些河川？(1)高屏溪→淡水河→濁水溪 (2)淡水河→高屏溪→濁水溪 (3)淡水河→濁水溪→高屏溪 (4)高屏溪→濁水溪→淡水河。
- (4) 5. 使用化學肥料的敘述哪一項是正確的？(1)化學肥料不會對環境造成影響 (2)先民以前就會使用化學肥料 (3)化學肥料的製作原料是動物的排泄物和植物的枯枝落葉 (4)使用化學肥料可以提高作物產量。
- (1) 6. 關於台地的敘述，哪一項正確？(1)地勢稍高且中央廣闊平坦，四周以陡坡和低地相接 (2)地勢低且平坦廣闊 (3)地面起伏不平 (4)四周高中間低。
- (2) 7. 阿哲和家人到日月潭遊玩，觀賞到知名的「湖上杵音」表演，請問是哪一族原住民特有的音樂文化？(1)賽德克族 (2)邵族 (3)噶瑪蘭族 (4)排灣族。
- (2) 8. 早期漢人在製作哪些食物時，會用到葉子來包裝？(1)粿. 水餃. 粽子 (2)粿. 粽子 (3)油條. 湯圓. 粿 (4)粽子. 湯圓。
- (1) 9. 住在桃園台地的陳老師，用空拍機從

空中拍攝家鄉，並在課堂展示照片，請問同學除了發現有房子、稻田外，還會發現哪種設施眾多？(1)池塘 (2)水庫 (3)機場 (4)遊樂場。

- (3) 10. 現代有些農民改採自然的耕種方式，會在休耕期間種植哪些植物當肥料呢？
甲. 波斯菊 乙. 玉蘭花 丙. 油菜花 丁. 蘆薈
(1)甲乙 (2)甲乙丙 (3)甲丙 (4)丙丁。

二、綜合應用題：(共63分)

(一)下圖是早期漢人先民日常使用的兩種生活器具，請回答問題。(每格2分，共6分)



1. 「砧板、瓠瓢、米缸、水桶」請從上述找出圖中器物的名稱，填入()中。

(1)甲的名稱是：(瓠瓢)

(2)乙的名稱是：(水桶)

2. 在早期，代號乙的器物大多是由哪一種材質打造？請在□中打✓。

(1)木頭

(2)塑膠

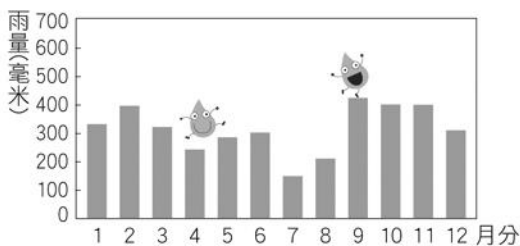
(二)下圖是早期漢人孩童嬉戲的情景，請看圖回答問題。(每格2分，共6分)



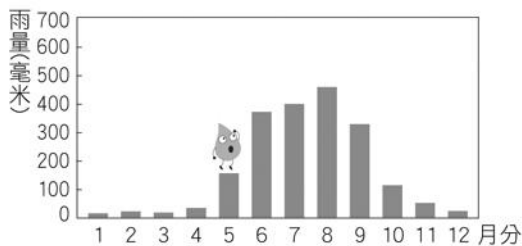
1. 圖中的玩具名稱叫(**陀螺**)。
2. 早期，製作這類的玩具需要哪些材料?
(**竹片**)、(**木頭**) (竹片、塑膠、木頭、鐵鋁請選**兩種**)

(三) 下面兩張圖是位於臺灣南、北兩地的氣象站所測出的月平均雨量，請看圖表回答下列問題：(每格3分，共9分)

甲地

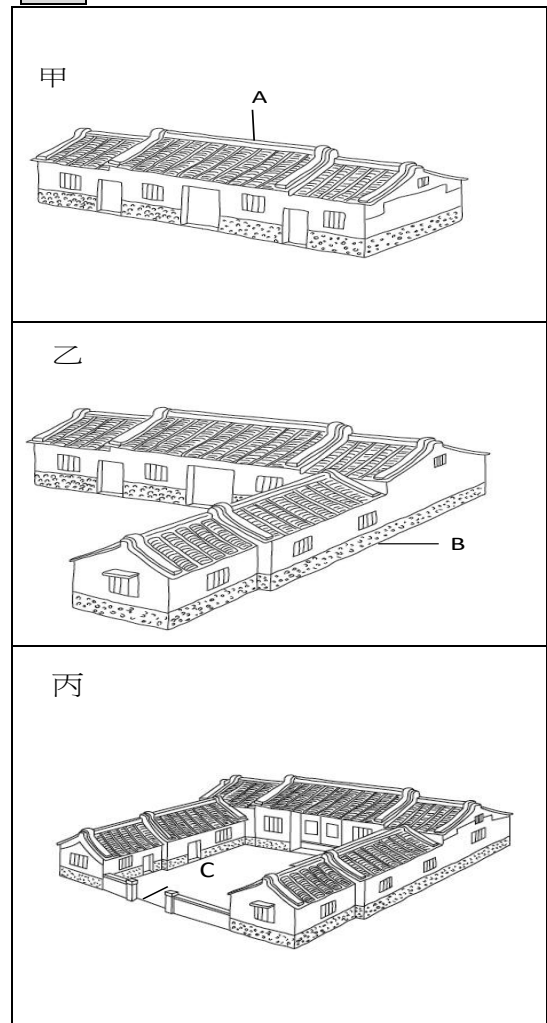


乙地



1. 根據圖上的線索，你認為甲地比較有可能是基隆或是高雄?(**基隆**)
2. 甲乙兩地，哪個地方的雨量集中在夏季?(**乙**)
3. 針對冬季降雨量少導致缺水的情況，有什麼因應方法呢?請寫出一種。
因應方法：(**參考答案：興建水庫、節約用水**)

(四)請參考圖片，依據下列問題，分別以**文字**或**代號**填填看。(每格2分，共12分)



1. 上圖中的甲、乙、丙都代表漢人的傳統住屋，請分別寫出這三種形式的名稱。
甲：(**一條龍**)
乙：(**單伸手**)
丙：(**三合院**)
2. 這些傳統住屋雖然外型不同，但都是由A、B兩種結構組成，請寫出這兩部分的名稱。
A：(**正身**)
B：(**護龍**)
3. 圖中的C是指建築中央的空地，閩南語又稱為「門口庭」，它的名稱叫(**稻埕**)。
4. **正廳**是傳統建築中重要的場所，請問在A、B、C哪一處?(**A**)

(五)請找出各題缺漏的文字，並填入代號。

(每格3分，共18分)

- | | | |
|-------|-------|-------|
| 1 塑膠 | 2 棕櫚葉 | 3 購物袋 |
| 4 垃圾袋 | 5 菜櫥 | 6 掃帚 |

1. 早期居民用(2)編織而成的蓑衣來避風遮雨，現代家鄉居民則用(1)製成的雨衣。
2. 傳統漢人使用的(5)、水桶等，多由木頭打造；蒸籠、(6)等，則多由竹子編成。
3. 臺北市販售「環保兩用袋」，兼具(3)與(4)雙重功能。

(六)早期的生活器物與現代某些器物功能相近，請嘗試填入代號做配對。(每格2分，共6分)

- | | | |
|-------|------|------|
| 甲、瓦斯爐 | 乙、雨衣 | 丙、電鍋 |
|-------|------|------|

1. 早期：蒸籠---現代：(丙)
2. 早期：蓑衣---現代：(乙)
3. 早期：灶-----現代：(甲)

(七)看圖回答問題：(每格3分，共6分)



1. 上圖是三峽老街的照片，請問哪個地方代表騎樓？請填代號。(乙)
2. 承上題，騎樓具有什麼功能？請寫出一種。

騎樓的功能：(參考答案：供行人行走、遮雨)

里 號

三、問答題：(共17分)

1. 小語跟著家人到鄉下的古厝欣賞荷花，他發現荷花就種在古厝前的水池裡，請問：傳統古厝前設置水池具有什麼功能，請寫出兩種？(4分)

參考答案：養殖、滅火、取水...

2. 先民在選擇居住環境時，會考量哪些條件？請寫出兩種。(4分)

參考答案：取水方便、平地多、...

3. 現代人選擇居住的地方，除了自然環境外，還會考量哪些因素？請寫出三種。(9分)

參考答案：醫療、教育、交通便利、就業、...

分數	人數
100分	
90~99	
80~89	
70~79	
60~69	
60分以下	
家長簽名	