

# 國立清華大學附設實驗國民小學107學年度第一學期四年級期中評量

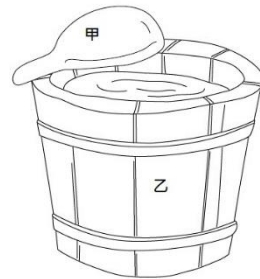
版本：康軒 領域：社會 出題者：沈漢淇老師 \_\_\_\_\_里\_\_\_\_\_號\_\_\_\_\_

## 一、選擇題：(每題2分，共20分)

- ( ) 1. 早期嘉南平原上部分田地只能從事旱作農業，後來是因為哪一項建設的完成，使得許多旱田得以轉為水稻耕作？(1) 曾文水庫(2) 嘉南大圳(3) 翡翠水庫(4) 阿公店水庫。
- ( ) 2. 在傳統三合院的建築中，從房間的排列位置可以看出什麼特別的意義？(1) 房間大小(2) 重視倫理關係(3) 家中人數多寡(4) 哪裡涼快。
- ( ) 3. 奇奇縣和妙妙市想要共同開發流經兩地的河川，建造水庫提供民生及工業用水，請問該選擇河川的哪一段來興建較適當？(1) 上游、中游(2) 上游、下游(3) 中游、下游(4) 上游、中游、下游皆可。
- ( ) 4. 小涵坐車從屏東到臺北，請問她依序會跨越哪些河川？(1) 高屏溪→淡水河→濁水溪(2) 淡水河→高屏溪→濁水溪(3) 淡水河→濁水溪→高屏溪(4) 高屏溪→濁水溪→淡水河。
- ( ) 5. 使用化學肥料的敘述哪一項是正確的？(1) 化學肥料不會對環境造成影響(2) 先民以前就會使用化學肥料(3) 化學肥料的製作原料是動物的排泄物和植物的枯枝落葉(4) 使用化學肥料可以提高作物產量。
- ( ) 6. 關於台地的敘述，哪一項正確？(1) 地勢稍高且中央廣闊平坦，四周以陡坡和低地相接(2) 地勢低且平坦廣闊(3) 地面起伏不平(4) 四周高中間低。
- ( ) 7. 阿哲和家人到日月潭遊玩，觀賞到知名的「湖上杵音」表演，請問是哪一族原住民特有的音樂文化？(1) 賽德克族(2) 邵族(3) 噶瑪蘭族(4) 排灣族。
- ( ) 8. 早期漢人在製作哪些食物時，會用到葉子來包裝？(1) 粿、水餃、粽子(2) 粿、粽子(3) 油條、湯圓、粿(4) 粽子、湯圓。
- ( ) 9. 住在桃園台地的陳老師，用空拍機從空中拍攝家鄉，並在課堂展示照片，請問同學除了發現有房子、稻田外，還會發現哪種設施眾多？(1) 池塘(2) 水庫(3) 機場(4) 遊樂場。
- ( ) 10. 現代有些農民改採自然的耕種方式，會在休耕期間種植哪些植物當肥料呢？甲. 波斯菊 乙. 玉蘭花 丙. 油菜花 丁. 蘆薈(1) 甲乙(2) 甲乙丙(3) 甲丙(4) 丙丁。

## 二、綜合應用題：(共63分)

- (一) 下圖是早期漢人先民日常使用的兩種生活器具，請回答問題。(每格2分，共6分)



1. 「砧板、瓠瓢、米缸、水桶」請從上述找出圖中器物的名稱，填入( )中。

(1) 甲的名稱是：( )

(2) 乙的名稱是：( )

2. 在早期，代號乙的器物大多是由哪一種材質打造？請在□中打✓。

(1) 木頭

(2) 塑膠

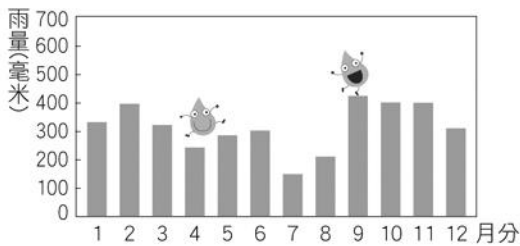
- (二) 下圖是早期漢人孩童嬉戲的情景，請看圖回答問題。(每格2分，共6分)



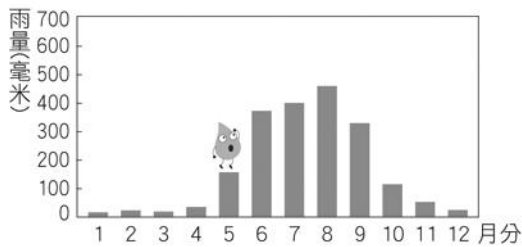
1. 圖中的玩具名稱叫( )。
2. 早期，製作這類的玩具需要哪些材料?  
( )、( ) (竹片、塑膠、木頭、鐵鋁請選兩種)

(三) 下面兩張圖是位於臺灣南、北兩地的氣象站所測出的月平均雨量，請看圖表回答下列問題：(每格3分，共9分)

甲地



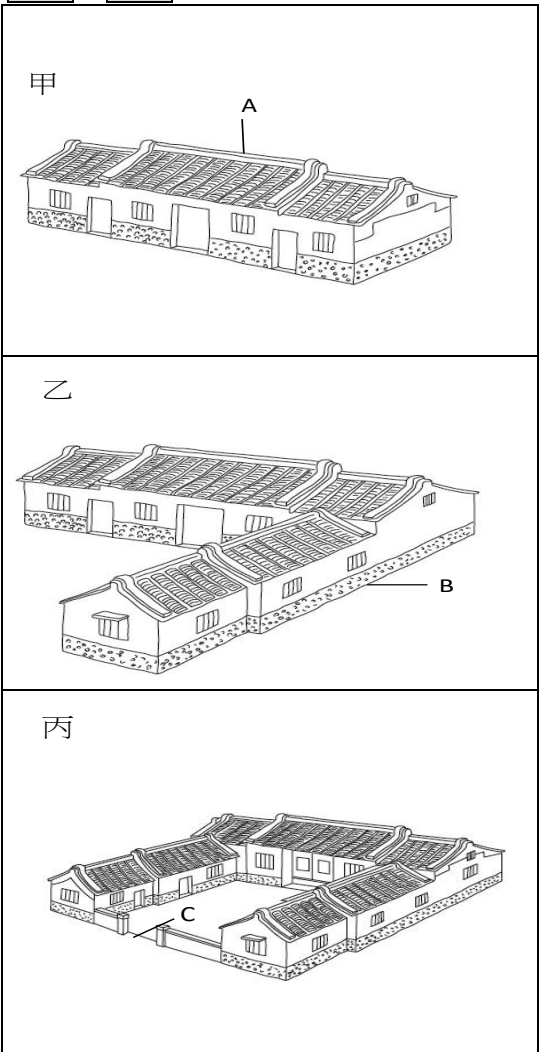
乙地



1. 根據圖上的線索，你認為甲地比較有可能是基隆或是高雄?( )
2. 甲乙兩地，哪個地方的雨量集中在夏季?( )
3. 針對冬季降雨量少導致缺水的情況，有什麼因應方法呢?請寫出一種。  
因應方法：( )

(四) 請參考圖片，依據下列問題，分別以

文字或代號填填看。(每格2分，共12分)



1. 上圖中的甲、乙、丙都代表漢人的傳統住屋，請分別寫出這三種形式的名稱。  
甲：( 一條龍 )  
乙：( )  
丙：( )
2. 這些傳統住屋雖然外型不同，但都是由A、B兩種結構組成，請寫出這兩部分的名稱。  
A：( )  
B：( )
3. 圖中的C是指建築中央的空地，閩南語又稱為「門口庭」，它的名稱叫( )。
4. 正廳是傳統建築中重要的場所，請問在A、B、C哪一處?( )

(五)請找出各題缺漏的文字，並填入代

號。(每格3分，共18分)

1 塑膠	2 棕櫚葉	3 購物袋
4 垃圾袋	5 菜櫥	6 掃帚

1. 早期居民用( )編織而成的蓑衣來避風遮雨，現代家鄉居民則用( )製成的雨衣。
2. 傳統漢人使用的( )、水桶等，多由木頭打造；蒸籠、( )等，則多由竹子編成。
3. 臺北市販售「環保兩用袋」，兼具( )與( )雙重功能。

(六)早期的生活器物與現代某些器物功能相近，請嘗試填入代號做配對。(每格2分，共6分)

甲、瓦斯爐	乙、雨衣	丙、電鍋
-------	------	------

1. 早期：蒸籠——現代：( )
2. 早期：蓑衣——現代：( )
3. 早期：灶——現代：( )

(七)看圖回答問題：(每格3分，共6分)



1. 上圖是三峽老街的照片，請問哪個地方代表騎樓？請填代號。( )
2. 承上題，騎樓具有什麼功能？請寫出一種。  
騎樓的功能：( )

里 號

三、問答題：(共17分)

1. 小語跟著家人到鄉下的古厝欣賞荷花，他發現荷花就種在古厝前的水池裡，請問：傳統古厝前設置水池具有什麼功能，請寫出兩種？(4分)

2. 先民在選擇居住環境時，會考量哪些條件？請寫出兩種。(4分)

3. 現代人選擇居住的地方，除了自然環境外，還會考量哪些因素？請寫出三種。(9分)

分數	人數
100分	
90~99	
80~89	
70~79	
60~69	
60分以下	
家長簽名	