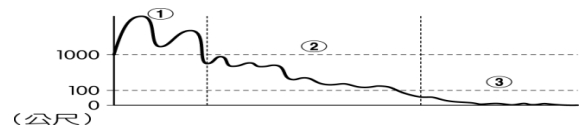


國立清華大學附設實驗國民小學106學年度第一學期五年級期中評量

版本：翰林 領域：社會 出題者：沈漢淇老師 _____里_____號_____

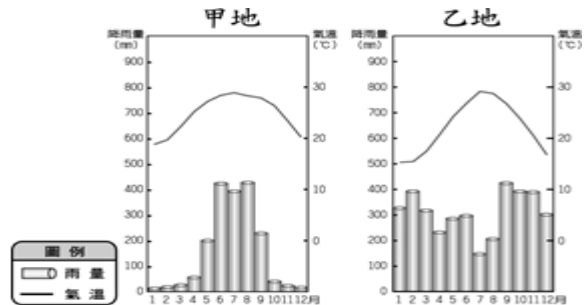
一、是非題：(每答2分，共20分)

- (○)1. 臺灣自五萬年前開始，便陸續有許多族群在這片土地生活。
- (X)2. 除了臺灣，其他國家很少發生地震。
- (X)3. 目前國際上將通過英國倫敦格林威治天文臺的緯線訂為0度。
- (○)4. 參觀臺南孔廟，可以讓我們想像古人的學校生活。
- (○)5. 石門水庫除了供應用水之外，還有防洪、觀光、發電等功能。
- (X)6. 臺灣河川水量的主要來源是高山雪水。
- (X)7. 臺灣本島的河川，大多源自玉山山脈。
- (X)8. 臺灣地區用水總量，以工業用水最多。
- (X)9. 臺灣南部四季有雨、四季高溫。
- (○)10. 玉山有副熱帶、溫帶和寒帶的植物景觀。



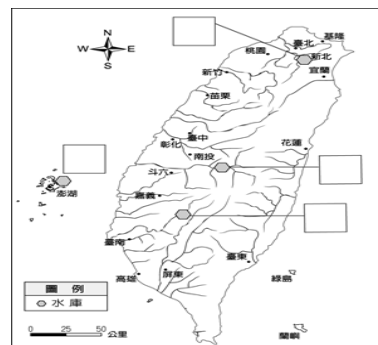
- (3) (1)平原。
- (1) (2)山地。
- (2) (3)丘陵。

(三)下面兩張圖是位於臺灣南、北兩地的氣象站所測出的平均雨量及氣溫圖，請看圖表回答下列問題：(每答2分，共4分)



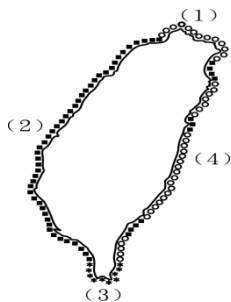
- (2)1. 根據圖上的線索，你認為甲圖是哪裡的圖示呢？①台灣北部 ②臺灣南部 ③無法判斷。
- (4)2. 承上題，這個地方的特色是什麼？①冬天降雨少，且全年氣溫變化比南部大②冬天降雨較多，且全年氣溫差異不大③夏天降雨較多，且全年氣溫變化較大④冬天降雨較少，且全年氣溫變化不大。

(四)為了供應用水，政府在各地興建了許多水庫，請依據提示，將各水庫的代號填入圖中。請回答下列問題：(每答1分，共4分)



二、綜合應用題：(共65分)

(一)臺灣的海岸有四種不同的類型，名稱和代號如下。你知道它們分別在哪裡嗎？請填上代號。(每答2分，共8分)

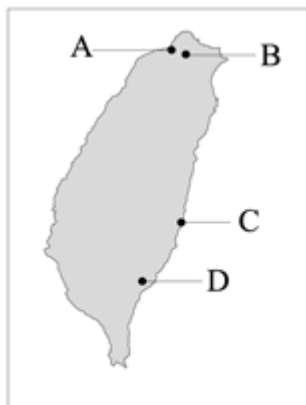


- A沙岸 B岬灣地形
C斷層海岸 D珊瑚礁海岸

- (1)北部：(B) (2)西部：(A)
- (3)南部：(D) (4)東部：(C)

(二)請看圖上的地形高度與地勢起伏情形，判斷這是哪一種地形，將圖上的代號填入()中。(每答2分，共6分)

- 勺北部地區最大的水庫。(左 1)
 又是一座地下水庫。(左中)
 門主要提供南部地區用水(右 2)
 匚主要功能為發電，同時具有觀光價值的水庫。(右 1)
- (五)臺灣有些遠古的史前文化，例如：十三行文化、圓山文化、卑南文化、長濱文化，請回答下列問題：(每答 2 分，共 12 分)



- (1)1. 已知 A 是十三行文化，請問 B、C、D 分別是什麼文化呢？①圓山文化、長濱文化、卑南文化 ②圓山文化、卑南文化、長濱文化③長濱文化、卑南文化、圓山文化④卑南文化、長濱文化、圓山文化。
- (2)2. 以貝塚聞名的文化是哪一區的？① A ②B ③C ④D。
- (1)3. 會進行海外貿易的是哪一區的文化？①A ②B ③C ④D。
- (4)4. 以磨製石器為生活方式之一的是？① AB ②AD ③DC ④BD。
- (4)5. 大量使用玉器著名的是哪一區的文化？①A ②B ③C ④D。
- (3)6. 住在岸邊的洞穴，還沒有農耕跡象的是指哪一區的文化？①A ②B ③C ④D。
- (六)請將各地形的代號，填入下列()中：

A 山地 B 丘陵 C 臺地 D 平原 E 盆地

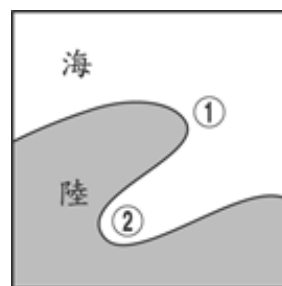
- (B)1. 起伏較小的地形，海拔高度約在 100 公尺至 1000 公尺之間。
- (D)2. 由河川沖積而成，主要分布在臺灣西

- 部沿海。
- (E)3. 四周較高、中間低緩，像盆狀的地形。
- (A)4. 所占面積最大，分布在本島的中央和東部地區。
- (C)5. 平坦高起的地形，大多分布在臺灣中、北部地區。
- (七)請看圖填入臺灣五大山脈的代號，並回答下列問題。(每答 2 分，共 14 分)



▲臺灣五大山脈分布圖

- (C) 1. 中央山脈。
- (A) 2. 雪山山脈。
- (E) 3. 阿里山山脈。
- (D) 4. 玉山山脈。
- (B) 5. 海岸山脈。
- (1)6. 花東縱谷平原是位於哪兩座山脈之間？①海岸、中央 ②中央、阿里山③雪山、玉山④中央、玉山。
- (3)7. 從臺北到宜蘭的雪山隧道是經過哪一座山脈？①海岸 ②中央③雪山④玉山。
- (八)下圖是臺灣東北角某一處的地圖，就地形而言，屬於「岬」的是(1)，屬於「灣」的是(2)。(每答 1 分，共 2 分)



(九)請依據下列各時期的先後順序，依序填入 1~5：(每答 2 分，共 10 分)

1. (4) 日治時期
2. (3) 清朝時期
3. (2) 明鄭時期
4. (1) 荷西時期
5. (5) 中華民國時期

三、問答題：(共 15 分)

1. 十三行文化的人面陶罐，可能有什麼用途？

(4 分)

宗教用途。

2. 十三行人為什麼要住在干欄式房屋內呢？

(4 分)

避免野獸攻擊(參考)。

3. 有留下文字紀錄的古老時代，稱為什麼？

(4 分)

歷史時代

4. 臺灣這片土地從有留下的文字紀錄以來，包含荷西時期、明鄭時期、清朝時期、日治時期、中華民國時期，請問：就你所知，目前為止，哪個時期在臺灣最久呢?(3 分)

清朝時期。

分 數	人 數
100 分	
90~99	
80~89	
70~79	
60~69	
60 分以下	
家長簽名	