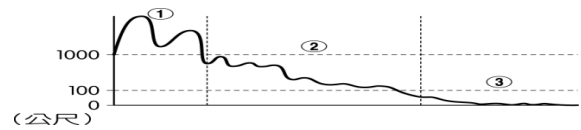


國立清華大學附設實驗國民小學106學年度第一學期五年級期中評量

版本：翰林 領域：社會 出題者：沈漢淇老師 _____里_____號_____

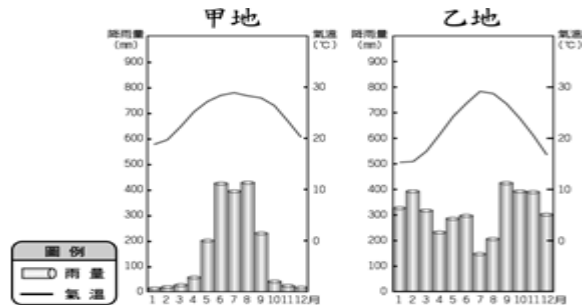
一、是非題：(每答2分，共20分)

- () 1. 臺灣自五萬年前開始，便陸續有許多族群在這片土地生活。
- () 2. 除了臺灣，其他國家很少發生地震。
- () 3. 目前國際上將通過英國倫敦格林威治天文臺的緯線訂為0度。
- () 4. 參觀臺南孔廟，可以讓我們想像古人的學校生活。
- () 5. 石門水庫除了供應用水之外，還有防洪、觀光、發電等功能。
- () 6. 臺灣河川水量的主要來源是高山雪水。
- () 7. 臺灣本島的河川，大多源自玉山山脈。
- () 8. 臺灣地區用水總量，以工業用水最多。
- () 9. 臺灣南部四季有雨、四季高溫。
- () 10. 玉山有副熱帶、溫帶和寒帶的植物景觀。



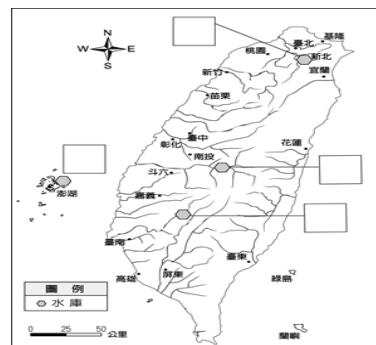
- () (1) 平原。
- () (2) 山地。
- () (3) 丘陵。

(三) 下面兩張圖是位於臺灣南、北兩地的氣象站所測出的平均雨量及氣溫圖，請看圖表回答下列問題：(每答2分，共4分)



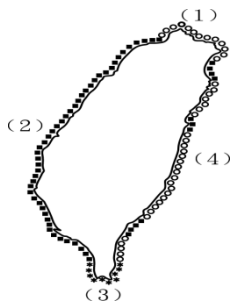
- () 1. 根據圖上的線索，你認為甲圖是哪裡的圖示呢？① 台灣北部 ② 臺灣南部 ③ 無法判斷。
- () 2. 承上題，這個地方的特色是什麼？① 冬天降雨少，且全年氣溫變化比南部大 ② 冬天降雨較多，且全年氣溫差異不大 ③ 夏天降雨較多，且全年氣溫變化較大 ④ 冬天降雨較少，且全年氣溫變化不大。

(四) 為了供應用水，政府在各地興建了許多水庫，請依據提示，將各水庫的代號填入圖中。請回答下列問題：(每答1分，共4分)



二、綜合應用題：(共65分)

(一) 臺灣的海岸有四種不同的類型，名稱和代號如下。你知道它們分別在哪裡嗎？請填上代號。(每答2分，共8分)



- A 沙岸 B 岬灣地形
C 斷層海岸 D 珊瑚礁海岸

- (1) 北部：() (2) 西部：()
- (3) 南部：() (4) 東部：()

(二) 請看圖上的地形高度與地勢起伏情形，判斷這是哪一種地形，將圖上的代號填入()中。(每答2分，共6分)

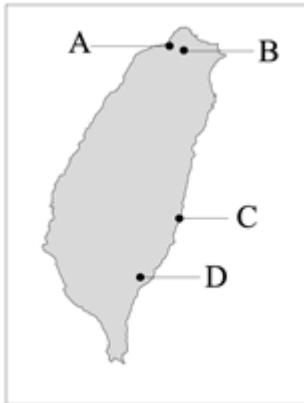
勺北部地區最大的水庫。

勺是一座地下水庫。

勺主要提供南部地區用水

勺主要功能為發電，同時具有觀光價值的水庫。

(五)臺灣有些遠古的史前文化，例如：十三行文化、圓山文化、卑南文化、長濱文化，請回答下列問題：(每答2分，共12分)



- () 1. 已知 A 是十三行文化，請問 B、C、D 分別是什麼文化呢？①圓山文化、長濱文化、卑南文化 ②圓山文化、卑南文化、長濱文化③長濱文化、卑南文化、圓山文化④卑南文化、長濱文化、圓山文化。
- () 2. 以貝塚聞名的文化是哪一區的？① A ② B ③ C ④ D。
- () 3. 會進行海外貿易的是哪一區的文化？① A ② B ③ C ④ D。
- () 4. 以磨製石器為生活方式之一的是？① AB ② AD ③ DC ④ BD。
- () 5. 大量使用玉器著名的是哪一區的文化？① A ② B ③ C ④ D。
- () 6. 住在岸邊的洞穴，還沒有農耕跡象的是指哪一區的文化？① A ② B ③ C ④ D。

(六)請將各地形的代號，填入下列()中：

(每答1分，共5分)

A山地 B丘陵 C臺地 D平原 E盆地

- () 1. 起伏較小的地形，海拔高度約在 100 公尺至 1000 公尺之間。
- () 2. 由河川沖積而成，主要分布在臺灣西

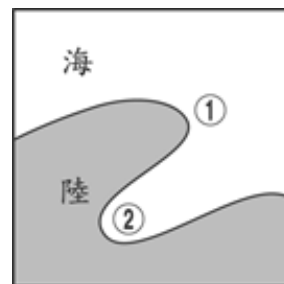
部沿海。

- () 3. 四周較高、中間低緩，像盆狀的地形。
- () 4. 所占面積最大，分布在本島的中央和東部地區。
- () 5. 平坦高起的地形，大多分布在臺灣中、北部地區。
- (七)請看圖填入臺灣五大山脈的代號，並回答下列問題。(每答2分，共14分)



▲臺灣五大山脈分布圖

- () 1. 中央山脈。
- () 2. 雪山山脈。
- () 3. 阿里山山脈。
- () 4. 玉山山脈。
- () 5. 海岸山脈。
- () 6. 花東縱谷平原是位於哪兩座山脈之間？①海岸、中央 ②中央、阿里山③雪山、玉山④中央、玉山。
- () 7. 從臺北到宜蘭的雪山隧道是經過哪一座山脈？①海岸 ②中央③雪山④玉山。
- (八)下圖是臺灣東北角某一處的地圖，就地形而言，屬於「岬」的是()，屬於「灣」的是()。(每答1分，共2分)



(九)請依據下列各時期的先後順序，依序填入 1~5：(每答 2 分，共 10 分)

1. () 日治時期 2. () 清朝時期
3. () 明鄭時期 4. () 荷西時期
5. () 中華民國時期

三、問答題：(共 15 分)

1. 十三行文化的人面陶罐，可能有什麼用途？

(4 分)

2. 十三行人為什麼要住在干欄式房屋內呢？

(4 分)

3. 有留下文字紀錄的古老時代，稱為什麼？

(4 分)

4. 臺灣這片土地從有留下的文字紀錄以來，包含荷西時期、明鄭時期、清朝時期、日治時期、中華民國時期，請問：就你所知，目前為止，哪個時期在臺灣最久呢？(3 分)

分 數	人 數
100 分	
90~99	
80~89	
70~79	
60~69	
60 分以下	
家長簽名	