



一：數字列車 數學冒險列車即將開車，請填入正確的數字。(每格1分，共7分)




二：比大小 寫出「 $<$ 」、「 $>$ 」或「 $=$ 」。(每格1分，共7分)

(1) 98 <input type="text"/> 100	(2) 110 <input type="text"/> 101	(3) 198 <input type="text"/> 189
(4) 106 <input type="text"/> 160	(5) 169 <input type="text"/> 170	(6) 200 <input type="text"/> 120
(7) 一個百，三個十，兩個一 <input type="text"/> 一個百，兩個十，十二個一		

三：填填看看 寫出正確的答案。

(1到8題每格2分，第9題每格1分，共30分)

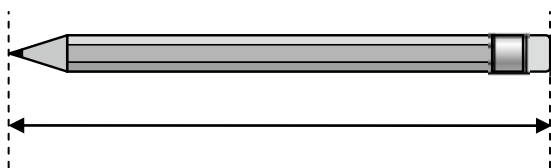
(1) 圖中一共有多少顆珠子？



() 顆

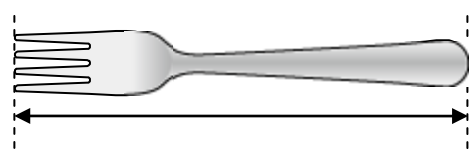
(2) 如果10顆●串成一串，5串又9顆●，一共有()顆●？

(3) 請用尺量出長度



大約()公分

(4) 請用尺量出長度



大約()公分

五：想想看 彭老師想要用勺、叉、刀三種工具量出魔法棒的長度，請你來幫忙！。(每格2分，共6分)

物品	勺	叉	刀
測量次數	27次	17次	6次

(1)從物品勺、叉、刀的測量次數看。(4分)

哪一個物品最長？()的長度最長(請填勺、叉、刀)；

哪一個物品最短？()的長度最短(請填勺、叉、刀)。

2.為什麼用不同的物品測量同樣一根魔法棒，量出來的次數會不同呢？(2分)

()

六：直式泡泡 算出正確答案。(每題2分，共12分)

$$\begin{array}{r} 35 \\ + 14 \\ \hline \end{array}$$

$$\begin{array}{r} 55 \\ + 8 \\ \hline \end{array}$$

$$\begin{array}{r} 55 \\ - 8 \\ \hline \end{array}$$

$$\begin{array}{r} 73 \\ + 17 \\ \hline \end{array}$$

$$\begin{array}{r} 54 \\ - 36 \\ \hline \end{array}$$

$$\begin{array}{r} 68 \\ + 68 \\ \hline \end{array}$$

七：算算看 請依據題目寫出做法，並將答案寫在() 裡。(每題4分，共32分)

(1) 葉老師星期六做了 7 枝竹蜻蜒，星期日又做了 68 枝竹蜻蜒，請問總共做了幾枝竹蜻蜒？

橫式

直式

() 枝

(2) 跳繩比賽，大可跳了 39 下，小可比大可多跳了 28 下，小可跳了幾下？

橫式

直式

() 下

(3) 書架上共有 64 本童話故事和 49 本漫畫書，一共有幾本書？

橫式

直式

() 本

(4) 花店有 55 朵向日葵，賣掉了 28 朵，還剩下幾朵向日葵？

橫式

直式

() 朵

(5) 黃老師分圖畫紙給 73 個小朋友，圖畫紙不夠 27 張，圖畫紙有幾張？

橫式

直式

() 張

(6) 媽媽煮了 35 個水餃，哥哥吃了 15 個，妹妹吃了 14 個，還剩下幾個水餃？

橫式

() 個

(7) 操場上有 16 個人在踢球、28 個人在打羽毛球、35 個人在慢跑，操場上共有幾個人在？

橫式

() 人

(8) 巫老師有 81 元，買了一個 29 元的橡皮擦後，大約還剩下幾元？圈圈看。

橫式

40 元

50 元

60 元

*愛的叮嚀：檢查，檢查，再檢查！我總共檢查了()次。